

آموزشگاه: مدرسه پسرانه فدک نور

وزارت آموزش و پرورش

تعداد صفحه: 2

آزمون: مدادکاغذی ریاضی

پایه: دوم

تاریخ: دی ماه

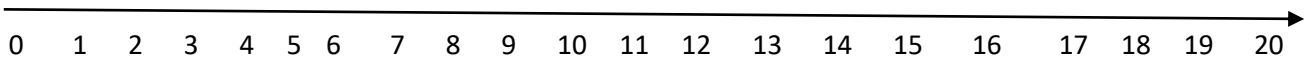
نام و نام خانوادگی:

1 با دو عدد 6 و 4 هرچقدر می توانید عدد دورقمی بنویسید.

.....

2 مسئله ی زیر را با رسم محور انجام دهید.

14 پرنده روی درخت بودند. 6 تاز پرنده ها پریدند . حالا چند پرنده روی درخت مانده است؟



3 حاصل جمع زیر را با رسم شکل به دست بیاورید.

$4+5+6=$

4 حاصل جمع و تفریق های زیر را پیدا کنید .

$90-40 = \square$

$5+5 +30+40=.....$


76

45

- 22

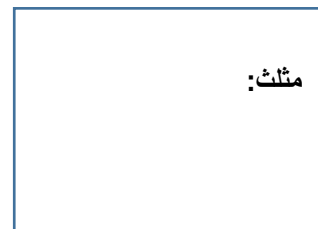
+23

5 با کمک شابلون دو شکل مربع و مثلث را رسم کنید. و هر کدام چند گوشه و چند ضلع دارند؟



گوشه:

ضلع:


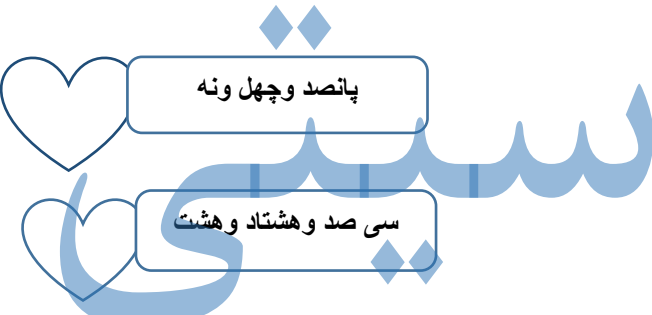


گوشه:

ضلع:

6 بزرگترین عدد دو رقمی چیست؟.....

کوچکترین عدد سه رقمی چیست؟.....

<p>26 <math>\rightarrow</math> .....</p> <p>+41 <math>\rightarrow</math> + .....</p> <p>_____</p> <p>_____</p> <p>.....</p>	<p>جواب جمع زیر بصورت تقریبی بنویسید را.</p> <p>7</p>
	<p>زمانی را که ساعت نشان می دهد، به دو صورت بنویسید.</p> <p>ساعت.....و.....دقیقه</p> <p>.....دقیقه مانده به ساعت.....</p> <p>9</p> <p>الگوی عددی را ادامه دهید.</p> <p>3 -6- 9- - - - -</p>
	<p>10</p> <p>اگر فاطمه 10 تا سکه 10 ریالی به بانک بدهد بانک باید چند سکه به او بدهد.</p> <p>.....</p>
	<p>11</p> <p>واحد پول کشور ما .....است.</p>
 <p>پانصد و چهل ونه</p> <p>سی صد و هشتاد و هشت</p>	<p>با رقم و حروف بنویسید.</p> <p>473</p> <p>198</p> <p>12</p>
<p>موفق باشی عزیزم</p>	<p>طراح سوال: رحمن زاده ، رعدی، علیاری</p>

بازخورد عملکرد دانش آموز				
بازخورد			انتظارات معلم	ردیف
ضعف دارد	متوسط	نسبتاً خوب	خیلی خوب	
				1 مفهوم عدد و رقم را درک کرده است.
				2 مسئله را با راه حل خواسته شده حل می کند.
				3 جمع و تفریق ها را با روش های مختلف بلد است.
				4 جمع و تفریق فرایندی را حل می کند.
				5 تعداد ضلع و گوشه را در اشکال هندسی تشخیص می دهد.
				6 تقریب را بخوبی فرا گرفته است.
				7 ساعت را به هر دو شکل بلد است.
				8 اعداد را با حروف و رقم می خواند و می نویسد.

بازخورد معلم: